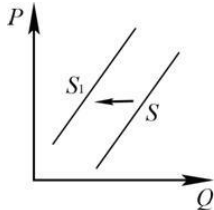


201. Что из перечисленного ниже относится к источникам финансирования бизнеса?

- 1) уплата налогов
- 2) совершенствование производственных технологий
- 3) выпуск и размещение акций предприятия
- 4) повышение производительности труда

202. На рисунке отражена ситуация на рынке легковых автомобилей: линия предложения S переместилась в новое положение – S_1 . (P – цена; Q – количество.)



Это перемещение может быть связано, прежде всего, с (со)

- 1) ростом доходов населения
- 2) спадом в автомобильной отрасли
- 3) вводом в строй новых предприятий по сборке автомобилей
- 4) расширением рынка автокредитов

203. Установите соответствие между примерами и факторами экономического роста, которые они иллюстрируют: к каждой позиции, данной в первом столбце, подберите соответствующую позицию из второго столбца.

| ПРИМЕРЫ | ФАКТОРЫ ЭКОНОМИЧЕСКОГО РОСТА |
|----------------------------------------------------------|------------------------------|
| А) расширение посевных площадей | 1) экстенсивные |
| Б) замена сельскохозяйственной техники более современной | 2) интенсивные |
| В) переобучение работников фермерского хозяйства | |
| Г) строительство дополнительных предприятий | |
| Д) увеличение численности обслуживающего персонала | |

204. Большинство жителей города Z трудились на швейной фабрике. После её закрытия многие остались без работы. К какому типу относится безработица в городе Z ?

- 1) застойная
- 2) структурная
- 3) фрикционная
- 4) сезонная

205. Фирма «Ника» – ателье по пошиву женской одежды. Найдите в приведённом списке примеры постоянных издержек фирмы «Ника» в краткосрочном периоде и запишите **цифры**, под которыми они указаны.

- 1) оклад главного бухгалтера
- 2) оплата потреблённой электроэнергии
- 3) сдельная оплата труда мастеров
- 4) арендная плата за помещение
- 5) приобретение тканей, фурнитуры
- 6) выплата процентов по взятым кредитам

206. Установите соответствие между характеристиками и факторами производства: к каждой позиции, данной в первом столбце, подберите соответствующую позицию из второго столбца.

| ХАРАКТЕРИСТИКИ | ФАКТОРЫ ПРОИЗВОДСТВА |
|-------------------------------------------------------------------------------------------------------------------------|-----------------------------------|
| А) все виды природных ресурсов, имеющихся на планете и пригодных для производства жизненных благ | 1) капитал |
| Б) факторный доход – рента | 2) земля |
| В) факторный доход – заработная плата | 3) труд |
| Г) здания и сооружения, оборудование, инфраструктура и др. | 4) предпринимательство |
| Д) услуги, которые оказывают люди, способные скоординировать использование факторов производства и принять на себя риск | (предпринимательские способности) |

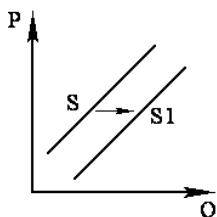
207. Верны ли следующие суждения о роли государства в экономике?

А. В рыночной экономике государство защищает интересы собственников.

Б. В рыночной экономике государство централизованно устанавливает цены на все товары и услуги

- 1) верно только А
- 2) верно только Б
- 3) оба суждения верны
- 4) оба суждения неверны.

208. На графике отражена ситуация на рынке экзотических фруктов: линия предложения S переместилась в новое положение – S_1 (P – цена товара, Q – количество товара).

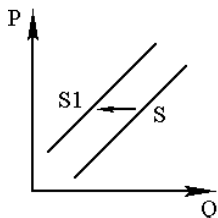


Это перемещение может быть связано, прежде всего, с (со)

- 1) ростом таможенных пошлин на импорт фруктов
- 2) высоким урожаем экзотических фруктов
- 3) повышением тарифов на грузовые перевозки
- 4) снижением доходов потребителей

209. На графике отражено изменение предложения школьно-письменных принадлежностей на соответствующем рынке: линия предложения S переместилась в новое положение – S_1 (P – цена товара, Q – количество товара).

Это перемещение может быть связано в первую очередь со (с)



- 1) ростом общего числа школьников 2) увеличением числа предприятий в отрасли
 3) завершением учебного года 4) снижением стоимости используемого сырья

210. Установите соответствие между примерами и видами налогов и сборов в РФ (в соответствии с Налоговым кодексом РФ): к каждой позиции, данной в первом столбце, подберите соответствующую позицию из второго столбца.

| ПРИМЕРЫ | ВИДЫ НАЛОГОВ И СБОРОВ В РФ |
|-----------------------------------|----------------------------|
| А) налог на доходы физических лиц | 1) федеральные |
| Б) государственная пошлина | 2) региональные |
| В) акцизы | 3) местные |
| Г) земельный налог | |
| Д) транспортный налог | |

211. Ниже приведён перечень терминов. Все они, за исключением двух, являются факторными доходами.

- 1) труд; 2) прибыль; 3) заработная плата; 4) земля; 5) рента; 6) процент. Найдите два термина, «выпадающих» из общего ряда, и запишите в таблицу цифры, под которыми они указаны.

212. Прочитайте приведённый ниже текст, каждое положение которого обозначено определённой буквой.

(А) Финансовые институты – организации, участвующие в финансово-кредитной системе и оказывающие услуги по предоставлению займов и передаче денег. (Б) Коммерческий банк – негосударственное кредитное учреждение, осуществляющее банковские операции для юридических и физических лиц. (В) Первый коммерческий банк был открыт в Генуе в 1407 г. (Г) В настоящее время в России действует несколько сотен коммерческих банков. (Д) Безответственно и легкомысленно вкладывать свои деньги в банк, не получив информации о его деятельности. Определите, какие положения текста имеют

- 1) фактический характер 2) характер оценочных суждений 3) характер теоретических утверждений

213. В стране Z сократились потребление и экспорт угля, большинство шахт закрылось, десятки тысяч шахтёров потеряли работу. Выберите из приведённого ниже списка характеристики возникшей безработицы и запишите **цифры**, под которыми они указаны.

- 1) структурная безработица 2) добровольная безработица 3) скрытая безработица
 4) фрикционная безработица 5) сезонная безработица 6) массовая безработица

214. Ниже приведён перечень налогов и сборов. Все они, за исключением двух, в соответствии с Налоговым кодексом РФ относятся к федеральным налогам и сборам.

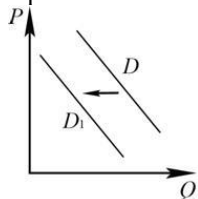
- 1) государственная пошлина; 2) налог на доходы физических лиц;
 3) земельный налог; 4) транспортный налог; 5) акцизы; 6) водный налог.

Найдите два налога и сбора, «выпадающих» из общего ряда, и запишите в таблицу цифры, под которыми они указаны.

215. В рыночной экономике:

- 1) господствует государственная собственность 2) цены регулируются взаимодействием спроса и предложения
 3) слабо развиты товарно-денежные отношения 4) отсутствует дифференциация доходов субъектов экономики

216. На рисунке отражено изменение спроса на парусные яхты на соответствующем рынке: линия спроса D переместилась в новое положение – D_1 . (P – цена; Q – количество.)



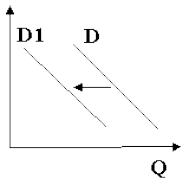
Какие из перечисленных факторов могут вызвать такое изменение? Запишите **цифры**, под которыми они указаны

- 1) серия несчастных случаев с парусными яхтами 2) появление моды на моторные яхты
 3) проведение удачной рекламной кампании 4) снижение издержек на производство яхт
 5) увеличение количества производителей яхт

217. Прочитайте приведённый ниже текст, в котором пропущен ряд слов. Выберите из предлагаемого списка слова, которые необходимо вставить на место пропусков. «Ограниченность ресурсов порождает несколько важнейших последствий. Прежде всего, люди издавна начали закреплять экономические ресурсы в _____ (А). Они договорились о том, что отдельный человек или группа людей могут владеть, _____ (Б), распоряжаться ресурсами. Закрепление ресурсов за гражданами и организациями позволяет владельцам предоставлять эти ресурсы тем, кто в них нуждается, за _____ (В). Следовательно, владение ресурсами становится источником доходов. Если владелец обладает только способностью _____ (Г) и продает именно её, т.е. идёт работать по найму, то получает за это зарплату. Владелец земельного участка или другого природного ресурса, использующий его для хозяйственных целей сам или предоставляющий эту возможность другим, получает доход, называемый _____ (Д). Владелец _____ (Е) (зданий, сооружений, оборудования), использующий его для обеспечения деятельности своей фирмы, получает доход в форме части прибыли этой фирмы». Слова в списке даны в именительном падеже. Каждое слово может быть использовано только один раз. Выбирайте последовательно одно слово за другим, мысленно заполняя каждый пропуск. Обратите внимание на то, что слов в списке больше, чем Вам потребуется для заполнения пропусков.

- Список терминов:** 1) рента 2) пользоваться 3) производство 4) трудиться
 5) капитал 6) собственность 7) плата 8) обмен 9) закон

218. На рисунке отражена ситуация на рынке страховых услуг (P – цена, Q – количество). Проанализируйте изменение спроса (линия спроса D переместилась в положение $D1$).



Чем может объясняться подобное изменение?

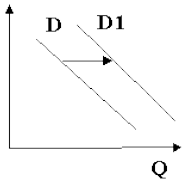
- 1) снижением выплат после наступления страховых случаев
- 2) повышением доходов потребителей
- 3) увеличением числа страховых компаний
- 4) введением обязательного страхования автогражданской ответственности

219. В период экономического кризиса ряд предприятий обанкротились, некоторые вынуждены были сократить производство. К какому типу относится появившаяся вследствие этого безработица?

- 1) сезонная
- 2) фрикционная
- 3) структурная
- 4) циклическая

220. На рисунке отражена ситуация на рынке компьютерной техники (P – цена товара, Q – количество товара). Ряд фирм-производителей предложили потребителям новую модель ноутбуков небольшого размера и веса.

Проанализируйте изменение спроса на них (линия спроса D переместилась в положение $D1$).



Какая из приведённых ниже причин объясняет изменения спроса?

- 1) Фирмы-производители неверно установили цену ноутбуков, которая испугала потребителей.
- 2) Потребители не сразу разобрались в возможностях новой модели ноутбуков.
- 3) Среди фирм-производителей отсутствует реальная конкуренция.
- 4) Потребители реагируют на интенсивную рекламу новых товаров.