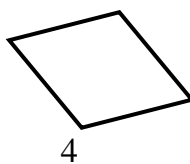
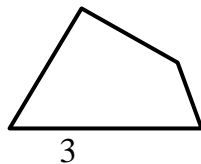
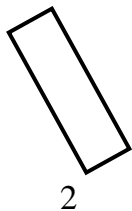
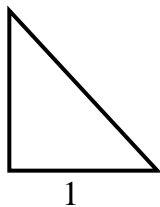


10. На рисунке изображены две пространственные фигуры. Рядом с каждой фигурой запиши название одного предмета, который имеет такую же форму.

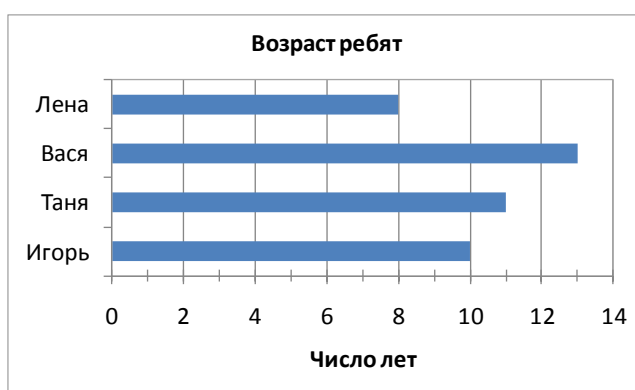




11. Рассмотрите фигуры, изображённые на рисунке. Обведи все номера четырёхугольников, которые не имеют прямого угла.



12. На диаграмме показан возраст четырёх ребят.




Кто из ребят младше Тани на 3 года?

Ответ: _____

13. На школьной столовой 80 посадочных мест. Во время перемены четверть всех мест заняли ученики. Сколько мест заняли ученики?

Ответ: _____ мест

14. Измерь длину отрезка. Запиши ответ в сантиметрах и миллиметрах. Начерти рядом отрезок на 2 см короче данного.



Ответ: _____ см _____ мм

15. Автомат, в котором продаются сухарики, принимает монеты по 10 р., 5 р., 2 р. и не выдаёт сдачу. Олег решил купить пакет сухариков, который стоит 49 р. У него есть монеты, которые изображены на рисунке.



Запиши в таблице два способа оплаты пакетика орехов без получения сдачи, которые могла использовать Тамара.

| Монеты | Количество монет | |
|-----------|------------------|---------------|
| | Первый способ | Второй способ |
| 10 рублей | | |
| 5 рублей | | |
| 2 рубля | | |

16. Накануне приезда бабушки в гости Лена решила сделать уборку в комнате. Она составила список основных дел и указала время на их выполнение.

Ей нужно:

- вытереть пыль – 10 минут,
- привести в порядок ящики своего стола – 3 ящика по 10 минут на каждый,
- вымыть пол – 15 минут,
- полить цветы – 5 минут,
- вынести мусор – 10 минут.

Сможет ли Лена сделать уборку, потратив на неё не более 1 ч 10 мин?

Запиши ответ и объясни его.

Ответ: _____

Объяснение: _____
